


1. Obličej

Který obličej se hodí do prázdného políčka?



2. Řada čísel

Které číslo ukončí řadu? 5, 4, 3 nebo 6?



3. Logik

Nahrad'te otazníky číslicemi na základě těchto pravidel: černé puntíky udávají kolik číslic z daného řádku je ve výsledku ne přesně stejné pozici, bílé puntíky udávají, kolik číslic v řádku je ve výsledku obsaženo. Číslice v jednotlivých čtveřicích jsou různé.

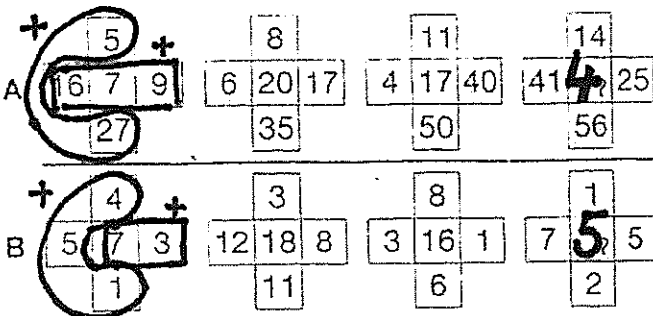
3	1	5	9	○○○
1	5	2	4	○○
6	3	2	1	●○
5	2	1	3	○○○

2	3	9	5	9	4	6	8	●○○
				7	0	4	2	●
				3	9	1	2	○
				4	1	7	6	●○○

6 1 4 8


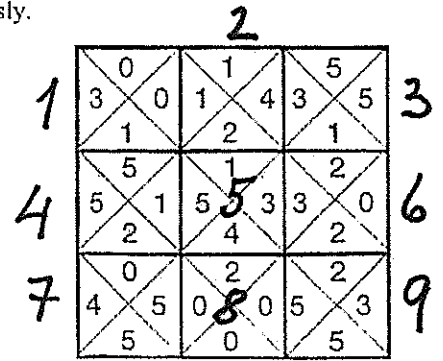
4. Doplňte číslo

V případě A i B doplňte do prázdného políčka číslo.



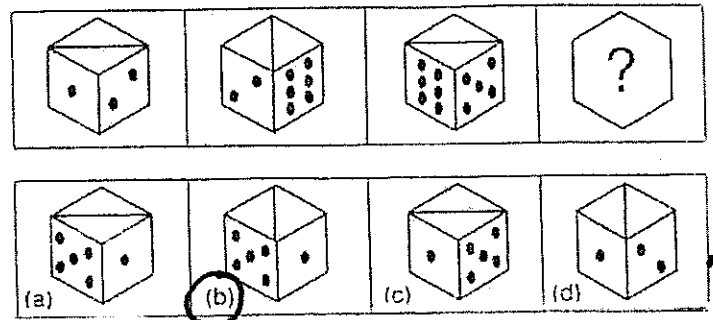
5. Čtverec

Sestavte čtverec tak, aby navzájem sousedily stejnými čísly.



6. Kostky

Která kostka následuje?



7. Hledejte čísla

Ve zme'ti čísel najděte:

- a) dvě různá čísla, jejichž součet je 200;
- b) tři různá čísla, jejichž součet je 300;
- c) tři různá čísla taková, že jedno z nich je aritmetickým průměrem dvou zbývajících.

