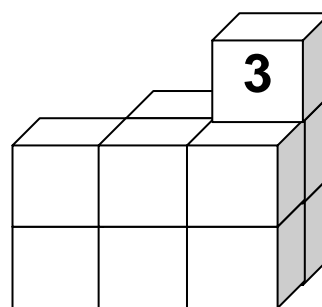
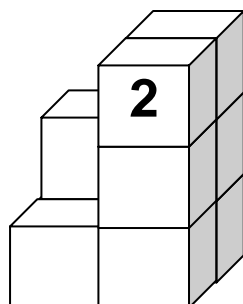
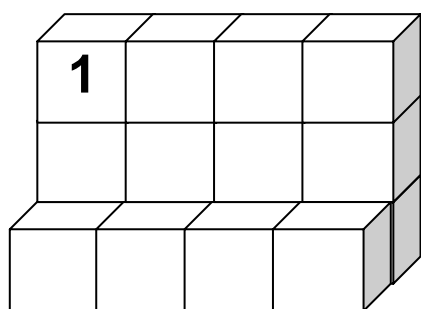


Stavby z krychlí



Vyplň tabulku.

	1	2	3
Postav stavbu podle vzoru. Kolik krychlí potřebuješ?			
Kolik krychlí není vidět?			
Měl by vzniknout kvádr. Kolik krychlí musíš přidat?			